



## 1. HAFTA



Kazanım:

T.8.3.5. Bağlamdan yararlanarak bilmediği kelime ve kelime gruplarının anlamını tahmin eder.  
T.8.3.14. Metinle ilgili soruları cevaplar.  
T.8.3.16. Metnin konusunu belirler.  
T.8.3.25. Okudukları ile ilgili çıkarımlarda bulunur.

T.8.3.27. Görsellerle ilgili soruları cevaplar.  
T.8.3.32. Grafik, tablo ve çizelgeyle sunulan bilgileri yorumlar.  
T.8.3.9. Filimsilerin cümledeki işlevlerini kavrar.  
T.8.4.16. Yazdıklarını düzenler.

Adı ve Soyadı:

Sınıfı:

Doğru Sayısı:

Yanlış Sayısı:

1. Aşağıdaki cümlelerin hangisinde “bitmek” sözcüğü “Kazandığım tüm para iki yılda bitmişti.” cümlesindeki anlamıyla kullanılmıştır?

- A) Bugün yürümekten bittim ama yine de işlerimi halledemedim.  
B) Kadın iki günde hastalıktan bitmiş, âdeta iğne ipliğe dönmüş.  
C) Yazıcının kartuşu bittiği için ödev çıktıklarını kırtasiyeden aldım.  
D) Küçük çocuğun üzerindeki kırmızı puantiyeli elbiseye bittik hepimiz.

2. Aşağıdaki tabloda numaralanmış yerlere, verilen sözcüklerin çağrıştırdığı kavramlar yazılacaktır.

1	2	3
Bağlılık	Çocuk	Kararlılık
Güven	Okul	Disiplin
Zafer	Öğrenme	Gayret

Buna göre numaralanmış yerlere getirilmesi gereken kavramlar aşağıdakilerin hangisinde doğru verilmiştir?

	1	2	3
A)	Yarışma	Hoşgörü	Amaç
B)	Liderlik	Dikkat	Azim
C)	Takım	Eğitim	Başarı
D)	Oyun	Kitap	Vasıta

3. Hangi özelliğini söyleyeyim ki Peri'nin? Her hâliyle hayatımın neşe kaynağı. Doğumu ayrı güzel, büyümesi ayrı güzel... Sırma saçlarını taramadan bir günüm geçerse kendimi eksik hissediyorum. Belki de bu yüzden çoğuna göre şımarıklık gibi görünen ancak bana göre hakkı olan çılgınlıkları, asilikleri vardır. Ama bağırarak ne kelime, suratım bile asılmaz ona. Gözlerimden bir bulut geçer sadece. O zaman kedi gibi olur. Ne istersem yapar.

**Bu metinde altı çizili sözle Peri'nin aşağıdaki özelliklerinden hangisi vurgulanmıştır?**

- A) Uysallığı  
B) Kıvraklığı  
C) Sevimliliği  
D) Oyunculluğu

4. I. Kendini tanımayan bir insanın ne istediğini bilmesi imkânsızdır.  
II. Kendinden çok başkalarıyla ilgilenen insanlar aslında hiç yaşamamıştır.  
III. Bir amaca tutunabilenler, donanımlarının farkında olanlardır.  
IV. Başkasının belirlediği hedeflerin peşinde gitmek acı vericidir.

**Numaralanmış cümlelerden hangileri anlamca birbirine en yakındır?**

- A) I ve III  
B) I ve IV  
C) II ve III  
D) II ve IV



















749515

ÖĞRENCİ NO	YANITLAR
1 (A) (B) (C) (D)	1 (A) (B) (C) (D)
2 (A) (B) (C) (D)	2 (A) (B) (C) (D)
3 (A) (B) (C) (D)	3 (A) (B) (C) (D)
4 (A) (B) (C) (D)	4 (A) (B) (C) (D)
5 (A) (B) (C) (D)	5 (A) (B) (C) (D)
6 (A) (B) (C) (D)	6 (A) (B) (C) (D)
7 (A) (B) (C) (D)	7 (A) (B) (C) (D)
8 (A) (B) (C) (D)	8 (A) (B) (C) (D)
9 (A) (B) (C) (D)	9 (A) (B) (C) (D)
10 (A) (B) (C) (D)	10 (A) (B) (C) (D)
	11 (A) (B) (C) (D)
	12 (A) (B) (C) (D)
	13 (A) (B) (C) (D)
	14 (A) (B) (C) (D)
	15 (A) (B) (C) (D)
	16 (A) (B) (C) (D)
	17 (A) (B) (C) (D)
	18 (A) (B) (C) (D)
	19 (A) (B) (C) (D)
	20 (A) (B) (C) (D)



5. Her geçen gün literatüre yeni gemiler giriyor olsa da amaçlarına ve taşıdıkları yüklere göre gemi türleri bellidir: yük gemileri, yolcu gemileri, özel hizmet gemileri, savaş gemileri. Örneğin konteyner yük gemileri özel yük kutularını taşıır. Bu kutular standart ebatlarda üretilir ve gemi, uzaktan üst üste dizilmiş legolardan oluşmuş gibi görünür. Yolcu gemilerinde, yolcu konforu ilk sırada tutulduğundan hiçbir masraftan kaçınılmaz ve gemi dizaynı en üst seviyede tutulur. Bu gemiler, yüzen apartmanlara benzer. Özel hizmet gemilerinden olan balıkçı gemisi denizde, gölde veya nehirde balık yakalamak için kullanılan bir tekne veya küçük gemidir. Savaş gemisi, deniz savaşlarında kullanılmak üzere yapılan bir askerî gemi türüdür. Silahlandırılmış olabildiği gibi vericilerle donatılmış olarak yüksek ve hızlı olacak şekilde tasarlanır.

**Bu metinde numaralanmış gemi türlerinin görselleri aşağıdakilerin hangisinde doğru verilmiştir?**

	I	II	III	IV
A)				
B)				
C)				
D)				

6. (I) "Ocean One" yapay zekâya sahip ilk insansı robot olarak kamuoyuna tanıtıldı. (II) Bu robot, su altında basıncın yüksek olduğu derinliklere dalış yapabiliyor ve insanlar için tehlikeli olabilecek yerleri gözlemleyerek bilgi ediniyor. (III) Uzaktan kumanda edilerek belirlenen konuma yüzüyor, incelemeler yapıp bulunduğu nesnelere toplayabiliyor. (IV) Bir ahtapotun kolları gibi kıvrak algılayıcıları aracılığıyla incelediği nesne ya da ortamdaki titreşim, ses ve görüntü verilerini anlık olarak kullanıcıya iletiyor.

**Bu metinde numaralanmış cümlelerden hangisi kanıtlanabilirlik açısından diğerlerinden farklıdır?**

- A) I                      B) II                      C) III                      D) IV

7.

Yaşamlarını sürü olarak sürdürdükleri bilinen zürafaların sosyal ilişkileri hakkında çok fazla bilgi sahibi olmayan hayvan bilimciler, kaydedilen kamera görüntülerinin analiz edilmesiyle zürafalarla ilgili birçok yeni bilgi edindi. Zürafaların da tıpkı filler ve balinalar gibi karmaşık sosyal ilişkilere sahip olduğunu gördüler. Sosyal bağ kurma becerilerininse bilinenden daha karmaşık olduğunu öğrendiler. Anne zürafalar, sürüdeki diğer yavruların bakımına; büyükanne zürafalarsa torunlarının bakımına yardım ediyor.

**Bu metinde aşağıdakilerin hangisi üzerinde durulmuştur?**

- A) Zürafalar ve balinaların ortak özellikleri  
B) Anne zürafaların bağ kurma becerisi  
C) Zürafaların yeni keşfedilen sosyal ilişkileri  
D) Hayvan bilimcilerin hayvanlarla ilgili keşifleri

8. Küçükken dağınıktı biraz. Etrafındakiler, yemek yerken onun sürekli olarak etrafı kirlettiğinden şikâyet ederdi. Her yerden onun çamaşırlarını topladıklarından, onun girdiği her yeri dağıttığından yakınip dururlardı. Anne ve babası, çocukları okula başladığında onun derslerinde de aynı dağınıklığı göstereceğinden korkuyordu. Oysa okul başladığında yavaş yavaş değişmeye başladı çocuk. Her gün ödevlerini yapıyor, keyifle okula gidiyordu. Anne ve babası ona karşı ön yargılı oldukları için pişman olmuşlardı.

**Bu metinde anlatılanlar aşağıdakilerin hangisi ile ifade edilebilir?**

- A) Ağaca çıkan keçinin dala bakan oğlağı olur.  
B) Bir tepe yıkılır, bir dere dolar.  
C) Doğru söyleyeni dokuz köyden kovarlar.  
D) Yerde yatan yumurta, gökte uçan kuş olur.

9. **Aşağıdaki cümlelerin hangisinde büyük harflerin kullanımıyla ilgili bir yazım yanlışı vardır?**

- A) Beyazıt Kulesi'nin etrafında biraz dolaştıktan sonra Eminönü Meydanı'na gittim.  
B) Hürriyet Caddesi'nde sağlı sollu dizilmiş mağazaları siz de gezmelisiniz.  
C) Samsun'un Terme İlçesi'nde mola verip muhteşem pidenin tadına bakmalısınız.  
D) Her sene Manyas Gölü'ne kuş gözlemeye gider, orada huzurlu zaman geçiririm.

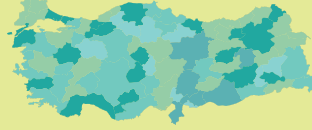


10.

## 2021-2022 EĞİTİM-ÖĞRETİM YILI UZAKTAN EĞİTİM İSTATİSTİKLERİ



KARAMANOĞLU MEHMET BEY ÜNİVERSİTESİ  
UZAKTAN EĞİTİM UYGULAMA VE  
ARAŞTIRMA MERKEZİ



■ GÜZ 675 115  
■ BAHAR 516 369  
dönemlik giriş adedi



72.246 saat  
canlı ders izlenmesi

41 480 saat 30 766 saat  
GÜZ BAHAR



SANAL SINIF



GÜZ BAHAR



ÖDEV



GÜZ BAHAR



ÇEVİRİM İÇİ SINAV



GÜZ BAHAR



VIDEO



GÜZ BAHAR

12 922 DOKÜMAN

79 FORUM

157 ANKET VE URL

■ GÜZ  
■ BAHAR

200 75  
ELEKTRONİK  
POSTA

264 143  
DESTEK  
MESAJI

402 458  
WHATSAPP  
MESAJI

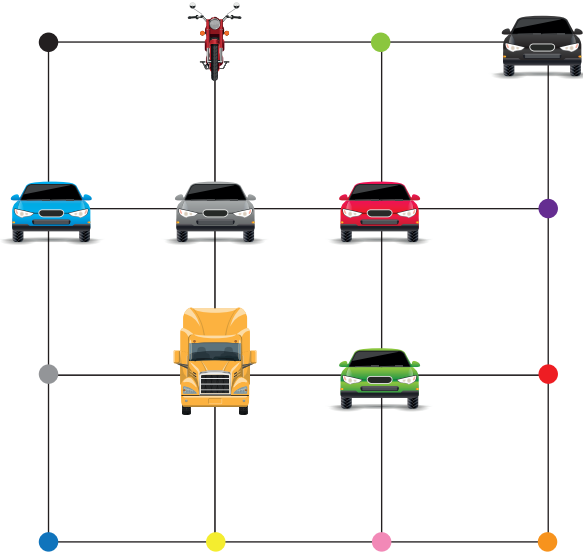
**Bu bilgilerden hareketle aşağıdakilerin hangisine ulaşamaz?**

- A) Bahar döneminde uzaktan eğitime giriş adedi, güz dönemindekinden azdır.  
B) Bahar dönemindeki anket sayısı, güz dönemindeki forum sayısından fazladır.  
C) Güz döneminde, bahar dönemine göre daha çok saat canlı ders izlenmiştir.  
D) Elektronik posta ve destek mesajı güz, WhatsApp mesajı ise bahar döneminde fazladır.

11. Bir otoparka bazı araçların aşağıdaki kurallara göre park etmesi gerekmektedir.

- Kırmızı, gri ve mavi arabalar yan yana olmalıdır.
- Sarı kamyon, mavi arabanın önünde olmalıdır.
- Motosiklet, siyah ve yeşil araba köşelerde olmalıdır.

Araçların otoparka aşağıdaki gibi park ettiği görülmüştür.



Buna göre aşağıdakilerden hangisi araçların doğru park edilmesi için yapılabileceklerden biri değildir?

- Sarı kamyon, gri park yerine alınmalıdır.
- Yeşil araba, turuncu park yerine getirilmelidir.
- Motosiklet, mavi park yerine alınmalıdır.
- Siyah araba, yeşil park yerine çekilmelidir.

12. Bilgi ve haber vermek, düşündürmek, tanıtmak gibi amaçlarla yazılan metinlere "bilgilendirici metin" denir. Bu metinlerde nesnel bir dil kullanılır.

Buna göre aşağıdakilerden hangisi bilgilendirici metin örneği olamaz?

- Araştırmalara göre kargalar, gagalarıyla doğrudan ulaşamadıkları yiyecekler için dal parçası ya da tel benzeri araçlar kullanabiliyor ve bu sayede yiyeceğe ulaşabiliyor. Hatta kargalar, gagalarıyla tellerin ucunu kıvrarak şekillendirebiliyor.
- Türkiye'nin bir ucundan Samsun'da bulunan Kızılırmak Delta'sına gittik bu yıl. Niyetimiz ülkemizde nadiren görülen yaban ördeklerini görmektir. Bir haftalık gezimizin ilk üç gününde amacımıza ulaşmasak da kalan günlerde yaban ördeklerinin harika fotoğraflarını çekmeyi başardık.
- Karadeniz'i Marmara Denizi'yle birleştiren İstanbul Boğazı, bu bölgede Avrupa ve Asya'yı birbirinden ayırıyor. İstanbul'un Avrupa'da kalan kısmına Avrupa yakası ve Asya'da kalan kısmına Anadolu yakası deniyor.
- Küçük sakarca, bir kaz türü. Birçok kaz türü gibi onun da renkleri kahverengi ve gri tonlarında. Karnında enlemesine siyah şeritler bulunan küçük sakarcanın pembe gagasının dibinden altına kadar uzanan beyaz bir bölgesi bulunuyor. Bu bölge onu diğer kaz türlerinden ayırıyor.



13.

- Her yıl kahverenginin türlü türlü tonlarını bulduğum dağların ilkbaharda nasıl da yeşile büründüğünü şaşkınlıkla izliyorum.
- Her yıl kahverenginin farklı tonlarını yansıtan dağların ilkbahar gelince yeşile büründüğünü görüyorum.

**Bu cümlelerle ilgili aşağıdakilerden hangisi söylenebilir?**

- A) Aynı durum birinde öznel, diğerinde nesnel cümlelerle anlatılmıştır.
- B) Farklı durumlara verilen farklı tepkiler dile getirilmiştir.
- C) Aynı duygunun farklı durumlardaki yansımaları betimlenmiştir.
- D) Aynı kişinin farklı olaylarla ilgili görüşleri alınmıştır.

14.

Fiil kök ya da gövdelerine fiilimsi ekleri getirilerek türetilen sözcüklere "fiilimsi" denir. Fiilimsiler, fiil anlamı taşımasına rağmen fiiller gibi kip ve kişi eki alarak çekimlenemez.

**Bu açıklamaya göre,**

- I. Verdiği kararlardan mesul tutulmak istemiyordu.
- II. Köyün en uç noktasında yanar akşamları bir ışık.
- III. Kalabalıkları yararak ilerlemeye çalışıyordu.

**cümlelerinde altı çizili sözcüklerden hangileri fiilimsidir?**

- A) Yalnız I  
B) Yalnız II  
C) I ve III  
D) II ve III

15.

Fiilimsilerle çekimli fiiller birbirine karıştırılabilir. Örneğin "Tanıdık bir yüzle karşılaşınca sevindim." cümlesinde "tanıdık" sözcüğü, sıfat görevinde kullanılmış bir fiilimsi, "Onu saç kesiminden tanıdık." cümlesindeki "tanıdık" sözcüğü ise yüklem olmuş çekimli bir fiildir.

**Bu açıklamaya göre aşağıdaki cümlelerin hangisinde altı çizili sözcük çekimli fiildir?**

- A) Anlaşılmaz bazı sözler söyleyip derdini anlatmaya çalıştı.
- B) Kırılmış bütün dişlileri makineyi çalıştıran çarkın.
- C) Doğacak günün yayacağı aydınlığa güvenerek uykuya daldı.
- D) Görüleşi güzellikler var cennet vatanımın her yöresinde.

16. Ağa takılmış kuşlar ve balıklar gibi

I

Çırpınırdık bir parça özgürlük için

II

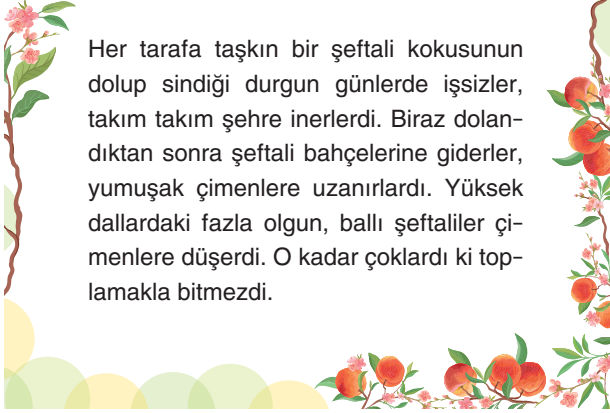
Yoktu anlayacak hâlimizden

III

**Bu dizelerde numaralanmış sözcüklerin türleri aşağıdakilerin hangisinde doğru verilmiştir?**

- |    | I            | II           | III          |
|----|--------------|--------------|--------------|
| A) | Fiilimsi     | Fiilimsi     | Çekimli fiil |
| B) | Fiilimsi     | Çekimli fiil | Çekimli fiil |
| C) | Fiilimsi     | Çekimli fiil | Fiilimsi     |
| D) | Çekimli fiil | Çekimli fiil | Fiilimsi     |

17.



Her tarafa taşkın bir şeftali kokusunun dolup sindiği durgun günlerde işsizler, takım takım şehre inerlerdi. Biraz dolandıktan sonra şeftali bahçelerine giderler, yumuşak çimenlere uzanırlardı. Yüksek dallardaki fazla olgun, ballı şeftaliler çimenlere düşerdi. O kadar çoklardı ki toplamakla bitmezdi.

**Bu metinde virgülün aşağıdaki işlevlerinden hangisi örneklenmemiştir?**

- A) Eş görevli sözcük ve sözcük gruplarını ayırma
- B) Art arda sıralanmış cümleleri birbirinden ayırma
- C) Yüklemden uzak düşmüş özneyi belirtme
- D) Tırnak içinde verilmeyen alıntı cümleleri belirtme

18. Babam ilk bağlamamı hediye ettiği günden bu yana türkülerle içli dışlıyım. Bir müddet üstatların bestelerini çalarak olgunlaştım. Zaman içinde kendi bestelerimi yapmaya başladım. Hep Anadolu insanının mutluluklarını notalara dökmeye çalıştım ancak bestelerimi çoğunlukla hüzünlü insanlar dinledi. Yine de bu durumdan memnunum.

**Bu metinde altı çizili ifadeyle aşağıdakilerden hangisine gönderme yapılmıştır?**

- A) Başarılı ve çok dinlenen bir bestekâr olmasına
- B) Anadolu insanını eserlerinde yansıtmasına
- C) Bestelerini hüzünlü insanların dinlemesine
- D) Taklitten özgünlük seviyesine yükselmesine

19.

#### MEVSİMLERE YENİLMEYEN AĞAÇ; ÇAM

Çam ağacı, zorlu iklim koşullarına karşı direnebilmesi ve solmayan rengiyle uzun yaşamı sembolize ediyor.

Çam, Pinaceae (çamgiller) familyasından Pinus cinsinden orman ağaçlarını içeren iğne yapraklı türlere verilen isimdir.

Türkiye'de yaygın olan ağaç, sonbahar ve kış aylarında da yapraklarını dökmez.

Türkiye'de sarıçam, karaçam, Halep çamı, kızılçam ve fıstık çamı türleri yetişir.

**Buna göre çam ağacının;**

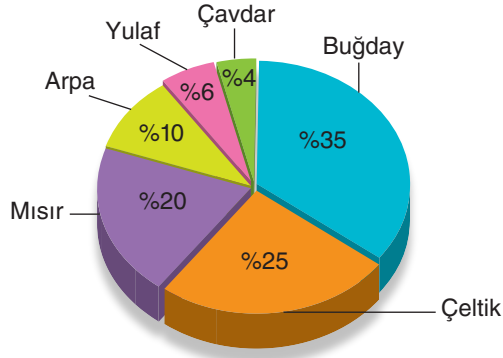
- I. dayanıklı,
- II. Türkiye'ye özgü,
- III. her zaman yeşil

**niteliklerinden hangilerine sahip olduğu kesin olarak söylenir?**

- A) Yalnız I
- B) Yalnız III
- C) I ve III
- D) II ve III



20. Bir ülkenin 2002 yılına ait toplam tahıl üretiminin tahıl türlerine göre dağılımı aşağıdaki grafikte gösterilmiştir.

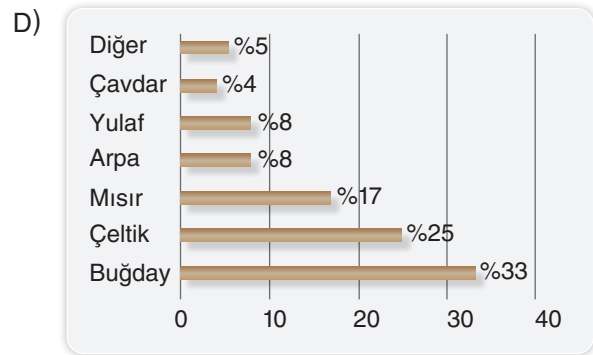
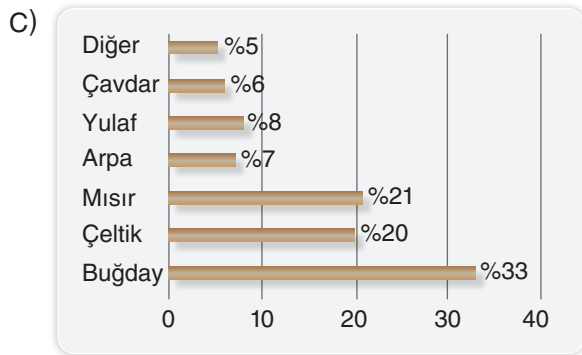
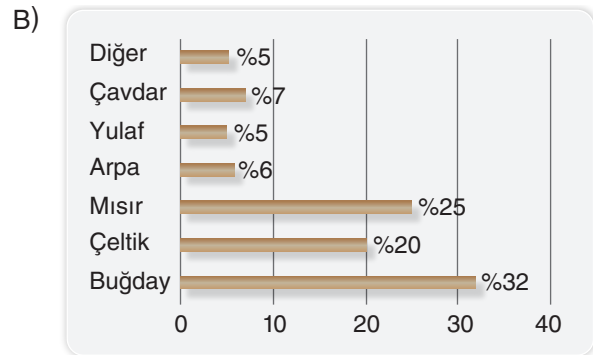
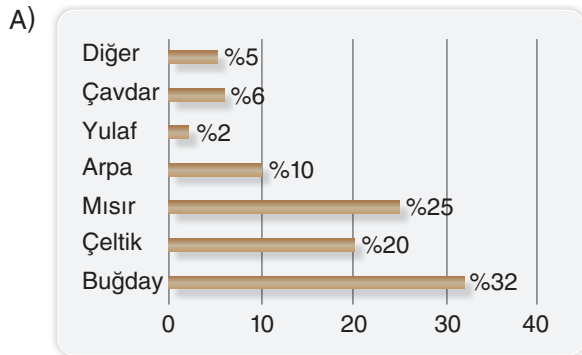


2002 yılı ve 2019 yılları karşılaştırıldığında 2019 yılına ait toplam tahıl üretiminin tahıl türlerine göre dağılımı grafiğine %5 oranında "diğer türler" verisi eklenmiştir.

Ayrıca yüzde olarak,

- Buğdayın oranı azalmış ancak birinci sıradaki yerini korumuştur.
- Mısırın oranı artmış ve sıralamadaki yeri değişmiştir.
- Arpanın oranı düşmüş ve sıralamadaki yeri değişmiştir.
- Çavdarın oranı artmış ve sıralamadaki yeri değişmiştir.

**Bu bilgilerden hareketle söz konusu ülkenin 2019 yılına ait toplam tahıl üretiminin tahıl türlerine göre yüzdelere verisi veren çubuk grafiği aşağıdakilerden hangisi olabilir?**







Kazanım:

T.8.3.5. Bağlamdan yararlanarak bilmediği kelime ve kelime gruplarının anlamını tahmin eder.  
T.8.3.14. Metinle ilgili soruları cevaplar.  
T.8.3.25. Okudukları ile ilgili çıkarımlarda bulunur.  
T.8.3.26. Metin türlerini ayırt eder.

T.8.3.27. Görsellerle ilgili soruları cevaplar.  
T.8.3.32. Grafik, tablo ve çizelgeyle sunulan bilgileri yorumlar.  
T.8.3.9. Filimsilerin cümledeki işlevlerini kavrar.  
T.8.4.16. Yazdıklarını düzenler.

Adı ve Soyadı:

Sınıfı:

Doğru Sayısı:

Yanlış Sayısı:

1. I. Kapatmak  
II. Benimsemek, beğenmek  
III. Hizmetine almak veya kiralamak

**Aşağıdaki cümlelerin hangisinde “tutmak” sözcüğü, verilen anlamlarından biriyle kullanılmıştır?**

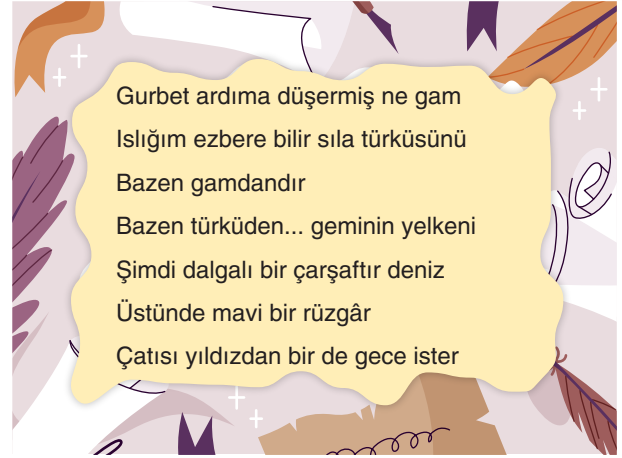
- A) Şans eseri ondan gelen cevap benim kendi bulduklarımı tuttu.  
B) Tabanı, otuz metre kadar tutan bir eşkenar üçgen biçimindedir.  
C) Öylesine gaddar insanları kimse sevmemiş, çevresinde tutmamıştır.  
D) Adada bir kat tuttum, bu yaz tatilimi orada geçireceğim.

2. İşini severek yapmayan insanlar, hem mesleklerine hem de kendilerine zarar verir.

**Aşağıdaki cümlelerden hangisi anlamca bu cümleyle aynı doğrultudadır?**

- A) Mesleğini seven bir insan çalışırken kendini iş yapıyor gibi hissetmez.  
B) Mesleğini sevmeyen insanlar kendi mutsuzluklarına ve işin özensiz yapılmasına sebep olur.  
C) İnsanın yaptığı işi sevmesi, mutlu ve anlamlı bir yaşam için çok önemlidir.  
D) Bir yöneticinin hem kendini hem çalışanlarını mutlu etmesi, işini sevmesine bağlıdır.

3.



**Bu şiirle ilgili aşağıdakilerden hangisi söylenemez?**

- A) 1 ve 2. dizelerde, anlamca birbirine zıt olan sözcükler kullanılmıştır.  
B) “Dudakların büzülerek veya parmağın dil üzerine getirilmesiyle çıkarılan ince ve tiz ses” anlamına gelen bir sözcük kullanılmıştır.  
C) “Dalga” sözcüğü, terim anlamıyla kullanılmıştır.  
D) Deniz, çarşafa benzetilmiştir.

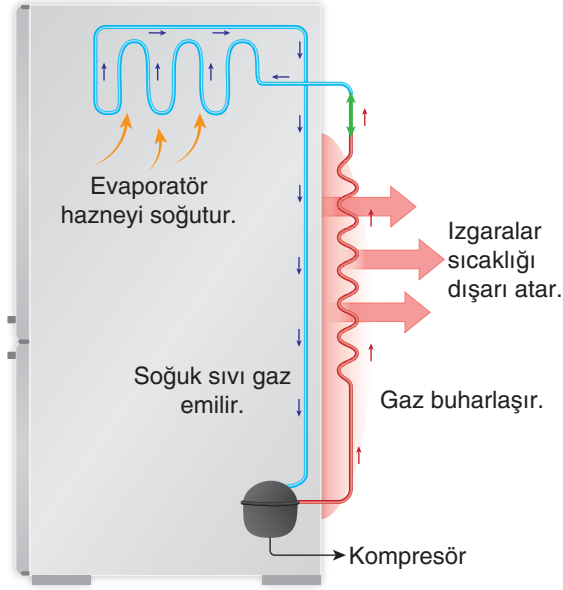


749516

ÖĞRENCİ NO	YANITLAR
1	1 (A) (B) (C) (D) 11 (A) (B) (C) (D)
2	2 (A) (B) (C) (D) 12 (A) (B) (C) (D)
3	3 (A) (B) (C) (D) 13 (A) (B) (C) (D)
4	4 (A) (B) (C) (D) 14 (A) (B) (C) (D)
5	5 (A) (B) (C) (D) 15 (A) (B) (C) (D)
6	6 (A) (B) (C) (D) 16 (A) (B) (C) (D)
7	7 (A) (B) (C) (D) 17 (A) (B) (C) (D)
8	8 (A) (B) (C) (D) 18 (A) (B) (C) (D)
9	9 (A) (B) (C) (D) 19 (A) (B) (C) (D)
10	10 (A) (B) (C) (D) 20 (A) (B) (C) (D)



4. Aşağıda bir buzdolabının çalışma prensibi gösterilmektedir.



**Bu görsele göre arızalı bir buzdolabı için,**

- I. Evaporatörden gelen borular, soğuk sıvı gazı kompresöre iletemiyor olabilir.
- II. Kompresör, sıcak gazı ızgaralara iletemiyor olabilir.
- III. Evaporatör, soğuk sıvı gazı ememiyor olabilir.
- IV. Kompresör, sıcak gazı buharlaştıramıyor olabilir.

**yorumlarından hangileri yapılabilir?**

A) I ve II

B) I ve III

C) II ve III

D) II ve IV

5. Aşağıdaki cümlelerin hangisinde “aynı olgunun farklı iki durumda ortaya çıkardığı sonuç” karşılaştırılmıştır?

A)

Yerleşim birimleri dâhilinde meydana gelen yangınlarda yangınla mücadele ekipleri, çaresizliğe bir nebze de olsa engel oluştururken kırsal arazide meydana gelen yangınlar büyük çaplı tahribatlara neden olabilmektedir.

B)

Aktarım, bireyin çocukluk çağında kendisi için önemli kişilerle yaşamış olduğu duygu ve tutumları şimdi ilişki kurduğu kişi ya da kişiler ile yeniden yaşaması; bu kişileri kendi çocukluğundaki algı ve duygulara göre değerlendirerek tepkiler göstermesidir.

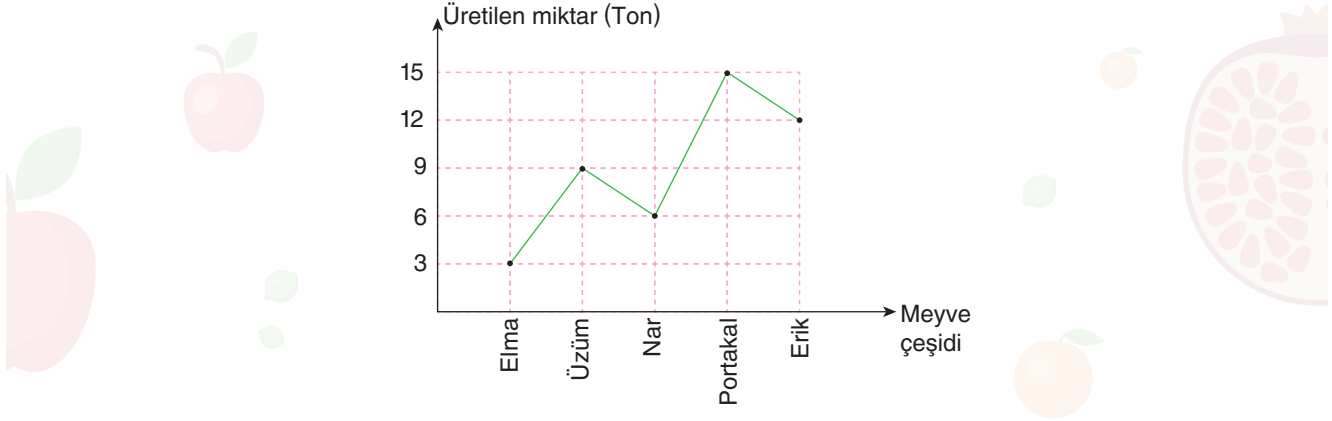
C)

Baki, âşığın ahından çıkan kıvılcımların yer ve göğü yakacak kadar etkili olduğunu, gözyaşı dalgalarının ise bu durumu engellediğini söyleyerek âşığın ahını, yakıcı olması nedeniyle ateşe, gözyaşlarını ise ateşi söndürme özelliğine sahip olduğu için denize benzetir.

D)

Bizi düşündüren ve duygulandıran metinler sadece anlatmaz, muhatabının da bir eylemde bulunmasını amaçlar; anlatma esaslı metinler ise daha çok dinlenmek için tasarlanmıştır ve en önemli nitelikleri, bir olayı veya olayları merkeze almış olmalarıdır.

6. Aşağıda Manisa'da 2022 yılı boyunca üretilen meyvelerin çeşitleri ve miktarları verilmiştir.



**Bu grafikten;**

- I. elma üretiminde bir yıl öncesine göre sağlanan artış,
- II. üzüm ve portakal üretimi arasındaki ton farkı,
- III. Manisa'da en çok üretilen meyve,
- IV. nar üretiminde komşu iller ve Manisa'nın ton farkı

**bilgilerinden hangilerine ulaşılabilir?**

- A) I ve II                      B) I ve III                      C) II ve III                      D) III ve IV

7.



Dört metreye ulaşabilen kanat açıklığıyla, kanatlarını neredeyse hiç çırpmadan açık denizlerin üzerinde saatlerce uçabilen albatrosların, robotik bir planöre esin kaynağı olduğunu biliyor musunuz? Saatlerce uçabilmeyi havanın hareket hızından yararlanarak başarıyor ve uçuş süresince süzülerek çok az enerji harcıyor. Albatroslar, yükseklerde bulunan ve hızlı hareket eden hava katmanlarına girip bir itme gücü kazanarak, yükseldikten sonra da dalışa geçerek yavaş hareket eden hava katmanlarına iniyor. Böylece kanatlarını çırpma gereksinimi duymadan ilerleyebiliyor. İşte, bu benzersiz özellikleriyle bilim insanlarının dikkatini çeken albatroslar sayesinde ABD'de hem havada hem de suda ilerleyebilen bir robot planör geliştirildi.

**Bu metinden aşağıdaki sorulardan hangisinin cevabına ulaşamaz?**

- A) Albatrosların çok az enerjile uzun süre uçabilmesini sağlayan nedir?
- B) Albatroslar, uçarken itme gücünü nasıl kazanıyor?
- C) Albatrosun hangi özelliği bilim insanlarına ilham verdi?
- D) Albatrosların uzun süre uçabilmesinde vücut ağırlıkları etkili mi?



8. Anket; kişilerden çeşitli konularda, planlı ve standart biçimde bilgi almak için geliştirilen ve çeşitli araştırmalarda kullanılan bir yöntemdir. Yüz yüze, posta yoluyla, telefonla ve gözlem altında uygulanabilir.

Tablo 1. Anket Yöntemlerinin Bazı Özelliklerine Göre Karşılaştırılması

Özellik	Anket Yöntemi			
	Yüz Yüze	Posta Yoluyla	Telefonla	Gözlem Altında
1. Düşük maliyet	++++	+	++	+++
2. Uygulama hızı	+	++	++++	++
3. Örneğin toplumu temsil edebilirliği	++++	+	+	+++
4. Sağlıklı sonuç alma olasılığı	+++	-	++	+
5. Göze hitap eden araç kullanabilme	+++	+	-	+
6. Uygulama boyutu	+	+++	++	+
7. Çabuk yanıt	+++	+	++	++
8. Anketörün taraf tutma olasılığı	+++	-	++	+

Bu tabloda anket çeşitlerinin bazı özellikleri karşılaştırılmıştır ve “+” sembolü avantajlı durumları temsil etmektedir.

**Buna göre,**

- I. Düşük maliyetli bir anket yapılmak isteniyorsa yüz yüze yöntemi seçilmelidir.
- II. En sağlıklı sonuçları gözlem altında yapılan anketler vermektedir.
- III. Telefonla yapılan ankette en avantajlı nokta hızlı uygulama yapılabilmesidir.
- IV. Postayla yapılan anket, anketör taraf tutabileceği için çok tercih edilmez.

**Yorumlarından hangileri doğrudur?**

- A) I ve III                      B) I ve IV                      C) II ve III                      D) III ve IV

9.

---- babaannem bana bir hikâye anlattı. Çok acıkan bir ayı nehre gitmiş ve bir balık yakalamış, balığın küçük olduğunu görünce onu nehre bırakıp tekrar bir balık tutmuş. Onu da yeterince büyük bulmamış, daha iri bir balık istiyormuş canı. Onu da nehre bırakıp tekrar tekrar aynı denemeyi yapmış ve böylece akşam olmuş. Artık küçük bir balık tutacak kadar bile gücü kalmamış. Yığılıp kalmış. Tuttuğum küçük balıkları yeseydim doyacaktım, diye hayıflanmış. Hikâyeyi dinleyince babaannemin bana vermek istediği öğüdü anlayıp utandım.

**Bu metinde boş bırakılan yere aşağıdakilerden hangisi getirilebilir?**

- A) Sınavlardan aldığım notları bir türlü beğenmediğimde
- B) Karşılaştığım iş fırsatlarını art arda geri çevirdiğimde
- C) Doğum günümde gelen hediyelere burun kıvrıdığım
- D) Çalıştığım şirkette yükselmek istediğimi söylediğimde

10. Ezel, Vildan, Ufuk, Fatih ve Meltem; resim, müzik, şiir ve spor dallarında yarışmalara katılmışlardır. Sadece Vildan'ın bir kategoride, diğer kişilerin ikişer kategoride yarıştığı yarışmalar hakkında bilinenler aşağıda verilmiştir.

- Ezel ve Fatih'in yarıştığı ortak bir kategori yoktur.
- Ufuk ve Ezel'in yarıştığı kategorilerden biri müziktir.
- Vildan, Ufuk ve Fatih spor kategorisinde yarışmamaktadır.
- Her kategoride en az iki kişi yarışmıştır.

**Buna göre aşağıdakilerden hangisi kesinlikle doğrudur?**

- A) Vildan, müzik kategorisinde yarışmaktadır.
- B) Fatih, resim kategorisinde yarışmaktadır.
- C) Ufuk, resim kategorisinde yarışmaktadır.
- D) Meltem, şiir kategorisinde yarışmaktadır.

11. I. Bu yolu tekrar yürümek, geri dönmek mecburiyeti...

II. Kafasında yalnız bir şey vardı:

III. Ne evde kendisinin dönmesini bekleyen iki küçük kardeşi ne de annesi aklındaydı.

IV. Ayrarını satıp satamayacağını da düşünmüyordu.

V. Küçük Hasan hiçbir şey düşünmeden ilerliyordu.

**Numaralanmış cümlelerle anlamlı bir metin oluşturulmak istense doğru sıralama aşağıdakilerden hangisi olur?**

- A) II - III - V - IV - I
- B) II - IV - III - I - V
- C) V - III - IV - II - I
- D) V - IV - I - III - II



12.

Dünyada radyo yayınlarının başladığı 1920'li yıllar, Türkiye'nin Kurtuluş Savaşı yıllarıdır. İstanbul "İtilaf Devletleri"nce işgal edilmiştir ve 1923 yılında Büyük Önder Mustafa Kemal Atatürk'ün dediği gibi "Geldikleri gibi giderler!". Giderlerken de Fransız işgal kuvvetleri komutanı General Charpie, bir telsiz telefon hediye eder Türklere. Bu telsiz telefonla, İstanbul'daki öğretmen okulunun kimya öğretmeni Rüştü Uzel başkanlığında bir öğrenci grubu deneme yayını yapmak için hazırlıklara girer. 19 Mart 1923 tarihinde, Türkiye'de deneme olarak yapılan ilk radyo yayını, İstanbul'da, öğretmen okulunun bodrumunda, davetliler ve basın huzurunda, kimya öğretmeni Rüştü Uzel başkanlığında bir ekip tarafından gerçekleştirilir.



**Bu metnin konusu aşağıdakilerden hangisidir?**

- A) Radyo yayınlarının ilk yılları
- B) Türkiye'de yapılan ilk radyo yayını
- C) Rüştü Uzel'in radyoculuk alanındaki katkıları
- D) Geçmişten bugüne Türkiye'de radyoculuk

13. İnsanın düşüncesi bir bakıma harflerle, sayılarla, notalarla sınırlanmış gibi görünüyor. Önümüzde duran 29 adet harf, 8 adet nota ve 0-9 arasındaki 10 adet rakamsal işaret, bizim rakamsal ufukumuzu sınırlayan işaretler olarak duruyor. Ne var ki düşünme ufukumuzun önünü açan da gene bu sınırlar içinde bulunuyor. 29 adet harfe başvurarak düşüncemizin sınırlarını, 8 adet notaya bakarak melodi dünyamızın sınırlarını ve 10 adet rakama bakarak sayısal alandaki sonsuzluğu zorluyoruz. Bu sadece harfler, rakamlar, notalar için değil her alanda böyle.

**Bu metnin ana düşüncesi aşağıdakilerden hangisidir?**

- A) İnsanları sınırladığı sanılan bazı kavramlar, başka bir açıdan bakıldığında sınırsızlığın kapısını aralar.
- B) Düşünmek soyut bir eylem olsa da harf, rakam, nota gibi somut işaretlerin yardımıyla gerçekleştirilir.
- C) İnsanlar harf, rakam gibi yazıya dayalı sistemleri geliştirdikten sonra daha karmaşık şeyler düşünebilmeye başlamıştır.
- D) İnsan, duygu ve düşüncelerini sınırlayan bütün kalıplardan fırsatını bulduğu ilk anda kurtulmalıdır.

14. ---- rahatsız oluyorsanız

- Duvarlarınızda nem alıcı boya kullanmalısınız.
- Ev içerisinde çok fazla saksı bitkisi bulunuyorsa evi gün içerisinde havalandırmalısınız.
- Ev içerisinde çamaşır kurutacaksanız odanın camlarını açmalısınız.

**Bu metinde boş bırakılan yere aşağıdakilerden hangisi getirilmelidir?**

- A) Camdaki buğu oluşumundan ve odadaki nemden  
B) Çamaşırlarınızın geç kurumasından  
C) Saksı bitkilerinizin evin havasını kirletmesinden  
D) Evinizin güneş görmeyen bir cephede bulunmasından

15.

Gülümsemenin gücüne inanırım ben, bir sebep aramam gülümsemek için. Ancak bugün bunu unutmuş gibiyiz. Kaşları çatık insanların arasında kendini huzursuz hissediyor insan. Sanki bir yanlış yapmış gibi... Elbette, insanlar dertleriyle meşgul, elbette hepimizin sıkıntıları var. Yine de zor değil gülümsemek. Onun verdiği huzurun farkında olsak, deneyip rahatlasak hiç şüphesiz en zor anda bile gülümsemek isteriz.



**Bu metin aşağıdaki metin türlerinin hangisinden alınmış olabilir?**

- A) Makale  
B) Deneme  
C) Anı  
D) Eleştiri

16.

**Bilgi:**

İsim-fiiller, fiil kök veya gövdelerine getirilen “-ma, -mak, -ış” ekleriyle türetilir.

Örnek: Başarmak için çalışmak zorundayım.  
İsim-fiil İsim-fiil

**Bu açıklamaya göre,**

Gerçeklikten kaçışı olağan görmek yanlıştır. Durum  
I II  
ne olursa olsun gerçekte yüzleşmeli ve aşılması ge-  
III IV  
reken bir sorun varsa onu bütün yönleriyle kavramalıyız.

**metninde numaralanmış sözcüklerden hangisi isim-fiil değildir?**

- A) I B) II C) III D) IV

17.

(I) Fosil yakıtların giderek azalması ve maliyetlerinin yükselmesi, bilim insanlarını geleceğe yönelik düşünmeye itiyor. (II) Bilim insanları, aynı zamanda çevreye ve sağlığa zarar vermeleri nedeniyle de bu yakıtlara alternatif olabilecek farklı kaynaklar geliştiriyor. (III) Tepkime, birbirini etkileyen maddeler arasında oluşan durumu karşılayan bir terimdir. (IV) Bilim insanları, geliştirmeye çalıştıkları yeni kaynağın yanmadan tepkimeye girmesini hedefliyor.

**Bu metinde numaralanmış cümlelerle ilgili aşağıdakilerden hangisi söylenemez?**

- A) I. cümlede, birden fazla isim-fiil vardır.  
B) II. cümlede, birden fazla fiilimsi vardır.  
C) III. cümlede, kalıcı isim olmuş bir isim-fiil vardır.  
D) IV. cümlede, sadece bir isim-fiil vardır.



18.

İsim-fiil eki olan “-me/-ma” ile “-me/-ma” olumsuzluk eki birbirine karıştırılabilir.

Örnek: Gülmeyen yüzlerde şefkat aramaya çalışmak, beyhudedir; kendini yorma.

Bu cümlede “gülmeyen” fiilimsisindeki “-me” ve “yorma” sözcüğündeki “-ma” eki olumsuzluk ekiyken “aramaya” sözcüğündeki “-ma” isim-fiil ekidir.

Buna göre,

Yeni bir projeye başladığını bana haber vermedi Selim. Bu haberi başkasından duyduğumda şaşırmadığımı  
I II  
söyleyemem. Bu, geri dönüşüm sürecini kısaltmayı hedefleyen bir projeydi. Hemen yanına gidip bu projede  
III  
yer alıp alamayacağımı sordum. Sensiz olmaz zaten, dedi.  
IV

metninde numaralanmış sözcüklerden hangisi isim-fiil eki almıştır?

- A) I B) II C) III D) IV

19. • Cümle içinde virgüllerle ayrılmış tür veya takımları birbirinden ayırmak için konur.  
• Ögeleri arasında virgül bulunan birden çok yüklemli cümleleri birbirinden ayırmak için konur.

**Aşağıdaki cümlelerin hangisinde noktalı virgül (,) verilen işlevlerinin dışında kullanılmıştır?**

- A) Yanık, içli ve derin bir sesi vardı; onu ne zaman dinlesem hüzünlenirdim.  
B) Matematik sayı, formül ve işlemlerden; Türkçe sözcük, cümle ve metinlerden hareketle öğretilir.  
C) Yaşlı adam, karanlık yolda ağır adımlarla ilerliyordu; yorgun ve mutsuz olduğu her hâlinden belliydi.  
D) Umman; Suriye, Irak ve Kuveyt gibi Orta Doğu coğrafyasında yer alır.

20. (I) Almanyadaki bir arkeoloji kazısında çalışan araştırmacılar, dünyanın en eski flütlerini bulmuşlar. (II) Bu flütler, kuş kemiğinden oyularak yapılmış. (III) Flütü kullanan insanlarsa günümüzden 35 bin yıl önce, Taş devrinde yaşamışlar. (IV) Mağaralar da barınıyor, avladıkları hayvanlar ve topladıkları meyvelerle besleniyorlarmış.

**Bu metinde numaralanmış cümlelerin hangisinde yazım yanlışı yoktur?**

- A) I B) II C) III D) IV





Kazanım:

T.8.3.5. Bağlamdan yararlanarak bilmediği kelime ve kelime gruplarının anlamını tahmin eder.  
T.8.3.14. Metinle ilgili soruları cevaplar.  
T.8.3.25. Okudukları ile ilgili çıkarımlarda bulunur.  
T.8.3.26. Metin türlerini ayırt eder.

T.8.3.27. Görsellerle ilgili soruları cevaplar.  
T.8.3.32. Grafik, tablo ve çizelgeyle sunulan bilgileri yorumlar.  
T.8.3.9. Filtimsilerin cümledeki işlevlerini kavrar.  
T.8.4.16. Yazdıklarını düzenler.

Adı ve Soyadı:

Sınıfı:

Doğru Sayısı:

Yanlış Sayısı:

1.

Tiyatro, oyuncuların oyunlarını ---- sergilemesi amacıyla hazırlanmış gösterilerdir. Tiyatro eserleri, olayları ---- gösterir. Bu yönüyle konuşma ve eyleme dayalı bir gösteri sanatı olarak tanımlanabilir. Tiyatro eseri, yalnızca yazılı edebî eserden ibaret değildir; dekor, kostüm, müzik gibi ---- tiyatro için vazgeçilmezdir.



**Bu metinde boş bırakılan yerlere düşüncenin akışına göre aşağıdakilerden hangisi getirilemez?**

- A) seyirciler önünde
- B) canlandırma yoluyla
- C) sahne düzeni
- D) unsurların bütünlüğü

2. Sipariş üzerine yapılan resimlerde sadece eller çalışır, ruh kilimli bir kutuda bekler. Bu durumda ressam, bir makine gibidir.

**Aşağıdakilerden hangisi bu metinde altı çizili sözle anlatılmak istenenlerden biri olamaz?**

- A) Resmin gerçekliğe uygun olmaması
- B) Duygu ve düşüncelerin tuvale yansımaması
- C) Gönülden geçenlerin esere aktarılamaması
- D) Yaratıcılığın sınırlanarak dizginlenmesi

3.

(I) Japon bilim insanları uzay çöplerini temizlemek için 700 metrelik devasa ağlar tasarladı. (II) Ağların başarılı olması önemli çünkü bu gidişle insanoğlu, uzayı da çöpleriyle işgal edecek. (III) Şimdilik deneme aşamasında olan ağların istenilen başarıya ulaşması durumunda daha küçük boyutta ağlar yapılacaktır. (IV) Yapılan çalışmalar, bilim dünyasında da heyecan uyandırdı.

**Bu metinde numaralanmış cümlelerin hangisinde neden, amaç veya koşul anlamı yoktur?**

- A) I
- B) II
- C) III
- D) IV

4.

Önde zeytin ağaçları, arkasında yar  
Sene 1946  
Mevsim  
Sonbahar  
Önde zeytin ağaçları neyleyim neyleyim  
Dalları neyleyim  
Yâr yollarına dökülmedik dilleri neyleyim

**Aşağıdaki cümlelerin hangisinde “neyleyim” sözünün bu dizelere kattığı anlamı karşılayan bir söz kullanılmıştır?**

- A) Bu insanlar, dün den beri burada neyi bekliyor?
- B) Olayı anneme nasıl anlatacağımı bilemiyorum.
- C) Yaptığınız çalışmanın yeterli olduğunu düşünüyor musunuz?
- D) Olan olmuş, bu saatten sonra ne yapabilirim?

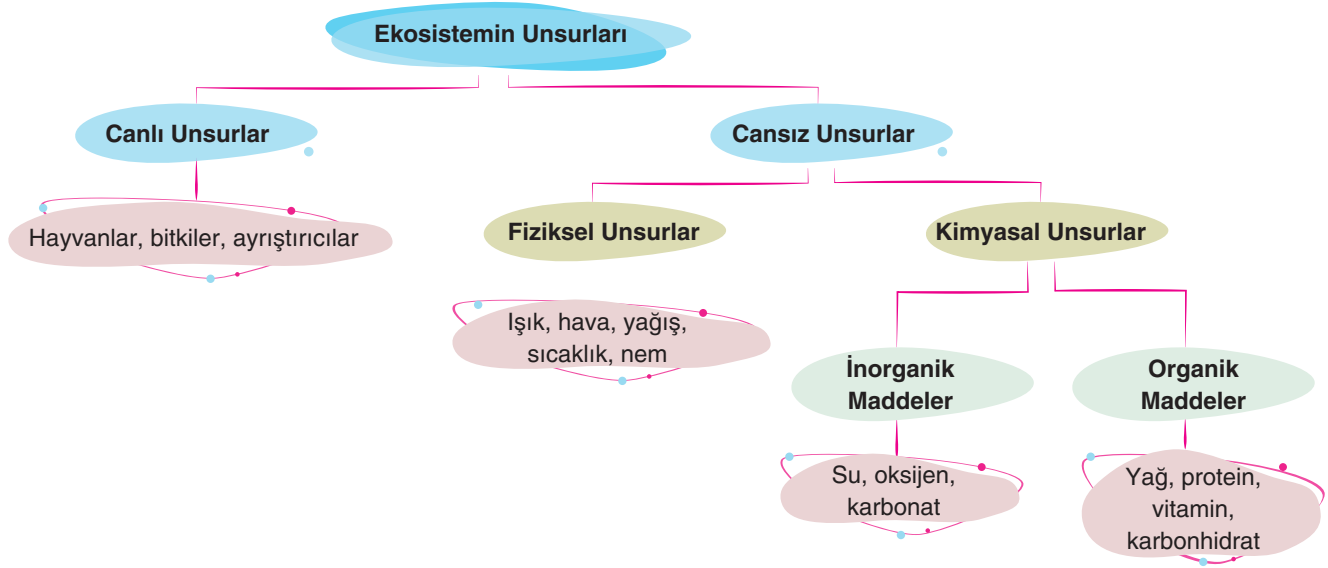


749517

ÖĞRENCİ NO	YANITLAR
1 0 0 0 0 0 0	1 A B C D 11 A B C D
2 1 1 1 1 1 1	2 A B C D 12 A B C D
3 2 2 2 2 2 2	3 A B C D 13 A B C D
4 3 3 3 3 3 3	4 A B C D 14 A B C D
5 4 4 4 4 4 4	5 A B C D 15 A B C D
6 5 5 5 5 5 5	6 A B C D 16 A B C D
7 6 6 6 6 6 6	7 A B C D 17 A B C D
8 7 7 7 7 7 7	8 A B C D 18 A B C D
9 8 8 8 8 8 8	9 A B C D 19 A B C D
10 9 9 9 9 9 9	10 A B C D 20 A B C D



7.



**Bu şemadan hareketle,**

- Ekosistemin unsurları, canlı ve cansız unsurlar olmak üzere ikiye ayrılır.
- Yağış ve sıcaklıklar, ekosistemi etkileyen fiziksel unsurlardır.
- Ekosistemin canlı unsurları, cansız unsurlarından daha etkilidir.
- Oksijen ve karbonhidratlar, kimyasal unsurlardır.
- Organik ve inorganik maddeler birbirlerini etkiler.

**yargılarından hangileri söylenebilir?**

- A) I, II ve III                      B) I, II ve IV                      C) I, III ve V                      D) II, IV ve V

8. Artık kimsenin bana rüyasını anlatmasını istemiyorum. İnsanların rüyalarında bilinçaltılarının en gizli yerlerini görüyorum çünkü. Bastırdıkları duygularının rüyalarında nasıl ortaya çıktığını anlıyorum. “Ne komik, gece rüyamda seni gördüm. Hazırlarken içine yanlışlıkla yumurta kabuğu koyduğum kekten yedirmeye çalışıyordum sana.” diyor biri, ben de “Yaa, gerçekten de beni seviyor gibi görünmen çok komik!” diye geçiriyorum içimden.

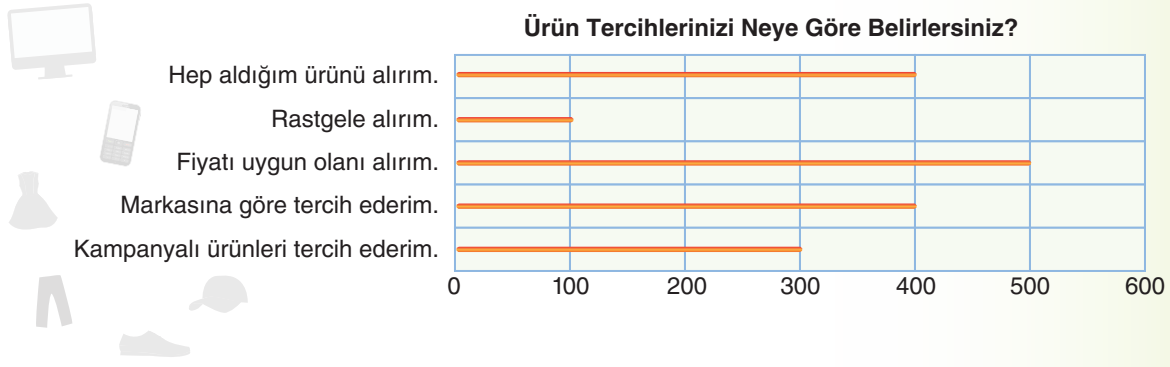
**Bu metnin türü aşağıdakilerden hangisi olabilir?**

- A) Makale                      B) Anı                      C) Fıkra                      D) Deneme



9. Tüketici eğilimlerini ölçen bir araştırma şirketi, 1700 kişiye “Ürün tercihlerinizi neye göre belirlersiniz?” sorusunu sormuştur.

Tüketicilerin verdiği cevaplarla aşağıdaki grafik oluşturulmuştur.



**Buna göre,**

- I. Tüketicilerin büyük bölümü bildiği ürün uygun fiyatlıysa alıyor.
- II. Ankete katılanların yarısından azı markasına göre tercih yaptığını söylemiştir.
- III. Rastgele alışveriş yapanların oranı en azdır.

**yargılarından hangileri söylenebilir?**

- A) Yalnız I                      B) Yalnız III                      C) I ve II                      D) II ve III

10.

#### Denizin Üstündeki Kızıl Kölye!

Golden Gate Köprüsü, dünyanın en çok fotoğraflanan köprüsüdür. Yetkililer, yapımında yaşanabilecek zorluklar nedeniyle uzun süre köprü inşasına yanaşmadılar. Ancak feribot seferlerindeki aksamaların artması sebebiyle 5 Ocak 1933'te bu muhteşem köprü'nün inşası için ilk kazma vuruldu. Köprü'nün genel tasarımını New York'taki Manhattan Köprüsü'nün mimarı Leon Moisseiff, teknik ve teorik çalışmalarını Amerika'nın en başarılı mühendis ve matematikçisi Profesör Charles Alton Ellis yaptı.



**Bu metnin anlatımıyla ilgili,**

- I. Öznel cümleler vardır.
- II. Karşılaştırma cümleleri vardır.
- III. Neden-sonuç cümleleri vardır.

**yargılarından hangileri söylenebilir?**

- A) I ve II                      B) I ve III                      C) II ve III                      D) I, II ve III